

CEVAP ANAHTARI

Adı-Soyadı:
Numarası:

24.11.2019

MAT 203 ANALİTİK GEOMETRİ I ARASINAV SORULARI

1. Aralarında 60° lik açı bulunan xoy eğik koordinat sisteminde $O'(2,4)$ noktası veriliyor. $x'o'y'$ dik koordinat sisteminde verilen $A(3,3)$ noktasının xoy eğik koordinat sistemindeki koordinatlarını bulunuz. ($m(xo') = 0^\circ$)
2. $P = (1,2,0)$, $Q = (3,0,-3)$, $R = (5,2,6)$ noktaları verilsin. Vektörel çarpım kullanarak PQR üçgeninin alanını hesaplayınız.
3. Kartezyen koordinatları $P = (1,1,-\sqrt{2})$ olan noktanın küresel koordinatlarını bulunuz.
4. $P = (1,0,1)$ noktasından geçen ve $d \dots \begin{cases} x=1+t \\ y=t \\ z=2 \end{cases}$ doğrusunu dik olarak kesen doğrunun

denklemini bulunuz.

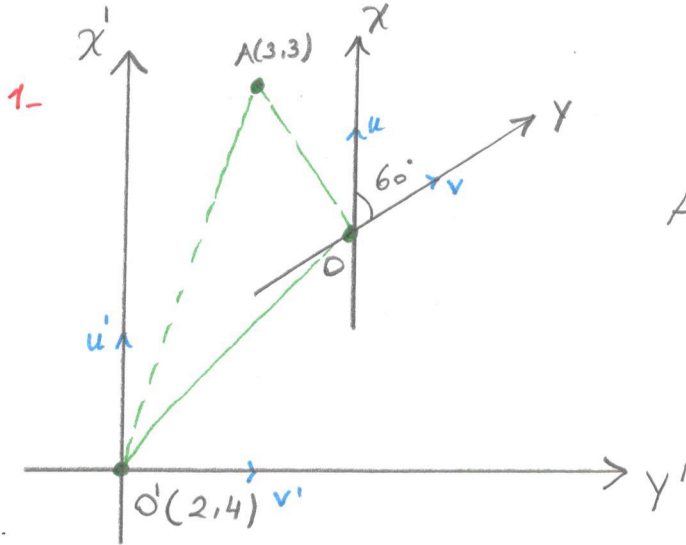
5. $E_1 \dots mx + my + z = 3$

$E_2 \dots my - z = -3$

$E_3 \dots x + my + z = 1$ düzlemlerinin ortak bir d doğrusuna sahip olmaları için m ne olmalıdır. d doğrusunun denklemini bulunuz.

NOT: Sorular eşit puanlı olup süre 90 dakikadır.

BAŞARILAR
Prof. Dr. Emin KASAP



$\vec{OA} = \vec{OO'} + \vec{O'A}$ yazılır.
Ayrıca;
 xoy sistemi için $\{u, v\}$
 $x'o'y'$ sistemi için $\{u', v'\}$
bazlarını ele alalım. Buradan,

$$\begin{cases} \vec{OA} = x_0 \vec{u} + y_0 \vec{v} \\ \vec{OO'} = 2\vec{u} + 4\vec{v} \\ \vec{O'A} = 3\vec{u}' + 3\vec{v}' \end{cases} \text{ olmak üzere}$$

$$x_0 \vec{u} + y_0 \vec{v} = 2\vec{u} + 4\vec{v} + 3\vec{u}' + 3\vec{v}'$$

$$\Rightarrow (x_0 - 2)\vec{u} + (y_0 - 4)\vec{v} = 3\vec{u}' + 3\vec{v}' \text{ yazılır.}$$

• Her iki tarafı \vec{u} ile iç çarpalım:

$$(x_0 - 2) + (y_0 - 4) \langle \vec{v}, \vec{u} \rangle = 3 \langle \vec{u}', \vec{u} \rangle + 3 \langle \vec{v}', \vec{u} \rangle$$

$$\Rightarrow x_0 - 2 + (y_0 - 4) \cos 60^\circ = 3 \cdot \cos 0^\circ + 3 \cdot \cos 90^\circ$$

$$\Rightarrow x_0 - 2 + \frac{y_0 - 4}{2} = 3$$

$$\Rightarrow 2x_0 + y_0 = 14 \dots (1)$$

• Her iki tarafı \vec{v} ile çarpalım:

$$(x_0 - 2) \langle \vec{u}, \vec{v} \rangle + (y_0 - 4) = 3 \langle \vec{u}', \vec{v} \rangle + 3 \langle \vec{v}', \vec{v} \rangle$$

$$\Rightarrow (x_0 - 2) \cos 60^\circ + y_0 - 4 = 3 \cos 60^\circ + 3 \cos 30^\circ$$

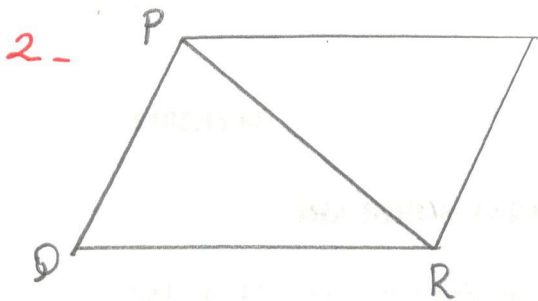
$$\Rightarrow \frac{x_0 - 2}{2} + y_0 - 4 = \frac{3}{2} + \frac{3\sqrt{3}}{2}$$

$$\Rightarrow x_0 + 2y_0 = 13 + 3\sqrt{3} \dots (2)$$

(1) ve (2) den

$$\begin{cases} x_0 = 4 + 2\sqrt{3} \\ y_0 = 5 - \sqrt{3} \end{cases}$$

bulunur.



$\triangle PQR$ nin alanı S olsun.

$$\Rightarrow S = \frac{1}{2} \|\vec{PQ} \wedge \vec{PR}\|$$

şeklinde hesaplanır.

$$\vec{PQ} = Q - P = (2, -2, -3)$$

$$\vec{PR} = R - P = (4, 0, 6) \text{ olmak üzere}$$

$$\vec{PQ} \wedge \vec{PR} = \begin{vmatrix} e_1 & e_2 & e_3 \\ 2 & -2 & -3 \\ 4 & 0 & 6 \end{vmatrix} = (-12, -24, 8)$$

$$\Rightarrow \|\vec{PQ} \wedge \vec{PR}\| = \sqrt{12^2 + 24^2 + 8^2} = 28 \text{ olup}$$

$$\Rightarrow S = 14 \text{ bulunur.}$$

3- $P \left(\begin{matrix} 1, 1, -\sqrt{2} \\ \underline{x}, \underline{y}, \underline{z} \end{matrix} \right) \rightarrow (\Gamma, \alpha, \beta)$

$$\begin{cases} x = \Gamma \cos \alpha \sin \beta \\ y = \Gamma \sin \alpha \sin \beta \\ z = \Gamma \cos \beta \end{cases}$$

$$\Gamma = \pm \sqrt{x^2 + y^2 + z^2} \text{ olmak üzere}$$

$$\Gamma = \pm \sqrt{1+1+2} = \pm 2 \text{ olur. Ayrıca}$$

$$\begin{cases} x = \Gamma \cos \alpha \sin \beta \\ y = \Gamma \sin \alpha \sin \beta \end{cases} \Rightarrow \tan \alpha = \frac{y}{x} \text{ olup}$$

$$\tan \alpha = 1 \Rightarrow \alpha = 45^\circ, 225^\circ \text{ elde edilir.}$$

Yine; $z = \Gamma \cos \beta$ eşitliğinden

$$\beta = 45^\circ, \beta = 135^\circ, \beta = 225^\circ, \beta = 315^\circ \text{ bulunur.}$$

$$\underline{r = 2}$$

$$\boxed{\alpha = 45^\circ}$$

$$\boxed{\alpha = 225^\circ}$$

$$x = r \cos \alpha \sin \beta$$

(+) (+) (+) $\boxed{(+)$ olmaktadır.

$$x = r \sin \alpha \sin \beta$$

(+) (+) (+) $\boxed{(+)$ olmaktadır.

$$z = r \cos \beta$$

(-) (+) (-) olmaktadır.

$$\downarrow$$
$$\beta = 135^\circ \text{ olur}$$

Benzer incelemeyle

$$\beta = 225^\circ \text{ olur.}$$

$$\underline{r = -2}$$

$$\boxed{\alpha = 45^\circ}$$

$$\boxed{\alpha = 225^\circ}$$

Benzer incelemede

$$\beta = 315^\circ$$

$$\beta = 45^\circ$$

O halde P nin küresel koordinatları

$$(2, 45^\circ, 135^\circ), (2, 225^\circ, 225^\circ), (-2, 45^\circ, 315^\circ), (-2, 225^\circ, 45^\circ)$$

bulunur.

4- Aranılan doğru denklemini

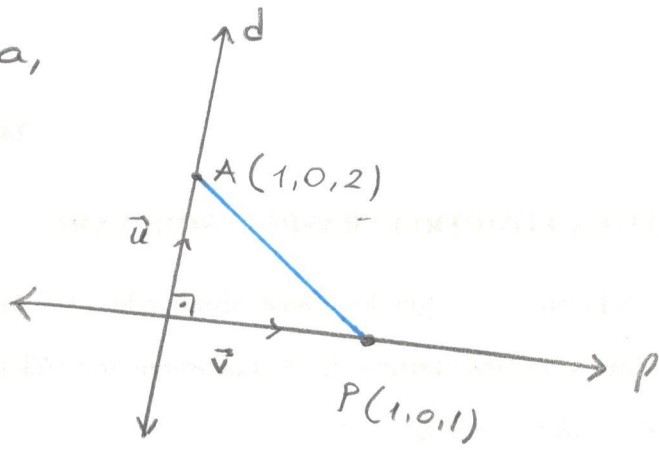
$$P \dots \frac{x-x_0}{a} = \frac{y-y_0}{b} = \frac{z-z_0}{c} = \lambda \text{ öü.}$$

d nin doğrultmesi $\vec{U} = (1, 1, 0)$ için

$$\langle \vec{U}, \vec{V} \rangle = \langle (1, 1, 0), (a, b, c) \rangle = 0 \text{ olmaktadır.}$$

$$\Rightarrow a + b = 0 \text{ bulunur.}$$

Ayrıca,



$A \in d$ ve $P \in l$ için
 $\vec{AP} = (0, 0, -1)$ olur.

$\det(\vec{u}, \vec{v}, \vec{AP}) = 0$ dır. Buradan,

$$\begin{vmatrix} 1 & 1 & 0 \\ a & b & c \\ 0 & 0 & -1 \end{vmatrix} = 0 \Rightarrow a - b = 0 \text{ bulunur.}$$

Öyleyse, $\begin{cases} a + b = 0 \\ a - b = 0 \end{cases} \Rightarrow a = b = 0$ elde edilir ki

l doğrusunun denklemi

$$\frac{x-1}{0} = \frac{y}{0} = \frac{z-1}{c} = \lambda \text{ bulunur.}$$

5. E_1, E_2 ve E_3 düzlemlerinin ortak bir doğrusundan geçmesi için, sırasıyla normalleri

$$\vec{n}_1 = (m, m, 1), \vec{n}_2 = (0, m, -1), \vec{n}_3 = (1, m, 1)$$

olmak üzere

$\det(\vec{n}_1, \vec{n}_2, \vec{n}_3) = 0$ olmalıdır. Buradan,

$$\begin{vmatrix} m & m & 1 \\ 0 & m & -1 \\ 1 & m & 1 \end{vmatrix} = 2m(m-1) = 0 \Rightarrow m = 0 \text{ ve } m = 1 \text{ bulunur.}$$

- $m=1$ olsun. Bu durumda denklemler

$$\begin{cases} x+y+z=3 \\ y-z=-3 \\ x+y+z=1 \end{cases} \quad \text{halini alır ki 1. ve 3.}$$

denklem çelişki oluşturmaz. Bu durumda ortak bir d doğrusu mevcut değildir.

- $m=0$ olsun. Bu durumda denklemler

$$\begin{cases} z=3 \\ z=3 \\ x+z=1 \end{cases} \quad \text{halini alır ki ortak } d$$

doğrusunun denklemi

$$\frac{x+2}{0} = \frac{y}{1} = \frac{z-3}{0} = t \quad \text{bulunur.}$$